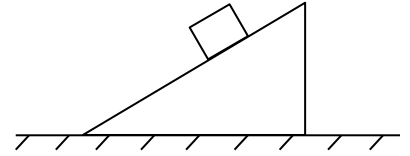


11 класс

1. (30 баллов) На гладкую наклонную грань клина, стоящего на гладком горизонтальном столе, кладут брусок той же массы, что и клин. При соскальзывании бруска его скорость в каждый момент времени в два раза больше скорости клина. Под каким углом к поверхности стола направлена скорость бруска?



Ответ. Скорость бруска направлена под углом 60° к поверхности стола.

Решение. Обозначим через α искомый угол, через V скорость клина, а через v скорость бруска ($v = 2V$). Из сохранения проекции импульса системы «брусок-клин» на горизонтальное направление следует соотношение

$$mv \cos \alpha = mV$$

(m – масса каждого из тел), откуда находим

$$\cos \alpha = \frac{1}{2}$$

и $\alpha = 60^\circ$.

2. (40 баллов) В вершинах квадрата со стороной a расположены одинаковые точечные электрические заряды. Найти точки на прямой, проходящей через центр квадрата перпендикулярно его плоскости, в которых величина электрического поля не изменится после удаления трех из зарядов на бесконечность.

Ответ. Точки расположены на расстоянии $a/\sqrt{30}$ от центра квадрата по обе стороны от плоскости квадрата.

Решение. В силу симметрии исходной системы зарядов электрическое поле этой системы на прямой, проходящей через центр квадрата перпендикулярно его плоскости, направлено вдоль этой прямой. Обозначая величину каждого заряда через q , запишем величину электрического поля E_1 в точке прямой, расположенной на расстоянии x от центра квадрата, в виде

$$E_1 = 4 \frac{q}{4\pi\epsilon_0(x^2 + a^2/2)} \cdot \frac{x}{\sqrt{x^2 + a^2/2}},$$

где ϵ_0 – электрическая постоянная. После того, как три заряда убрали, поле стало равным полю одного заряда (направленному под углом к вышеуказанной прямой)

$$E_2 = \frac{q}{4\pi\epsilon_0(x^2 + a^2/2)}.$$

Из условия $E_1 = E_2$ получаем уравнение

$$\frac{4x}{\sqrt{x^2 + a^2/2}} = 1,$$

откуда находим, что $x = a/\sqrt{30}$.

3. (30 баллов) Груз массы m , подвешенный на пружине жесткости k , совершает колебания в вертикальной плоскости. При прохождении грузом нижнего положения упругая энергия пружины в 9 раз больше, чем при прохождении верхнего положения. Найти амплитуду колебаний груза. Ускорение свободного падения равно g .

Ответ. Возможны два значения амплитуды $mg/(2k)$ и $2mg/k$.

Решение. Учтем, что маятник колеблется около положения равновесия, в котором пружина растянута на длину mg/k . Обозначив амплитуду колебаний через A , запишем энергию в верхнем положении как

$$W_{\text{верх}} = \frac{k(mg/k - A)^2}{2},$$

а в нижнем как

$$W_{\text{ниж}} = \frac{k(mg/k + A)^2}{2}.$$

Накладывая условие $W_{\text{ниж}} = 9W_{\text{верх}}$, приходим к уравнению

$$mg/k + A = \pm 3(mg/k - A),$$

откуда находим

$$A = mg/(2k); 2mg/k.$$

10 класс

1. (30 баллов) Тело, брошенное под углом к горизонту с начальной скоростью V_0 , через время t_1 оказалось на расстоянии R от точки броска. Через какое время тело упадет на землю? Ускорение свободного падения равно g .

Ответ. Тело упадет на землю через время $\frac{t_1}{2} + \frac{2V_0^2}{g^2 t_1} - \frac{2R^2}{g^2 t_1^3}$.

Решение. Обозначим через α угол, под которым было брошено тело, и запишем горизонтальную (x) и вертикальную (y) координаты тела в момент времени t_1 как

$$x = V_0 \cos \alpha t_1, \quad y = V_0 \sin \alpha t_1 - gt_1^2/2.$$

Запишем квадрат расстояния R^2 как

$$R^2 = x^2 + y^2 = V_0^2 t_1^2 - V_0 \sin \alpha gt_1^3 + g^2 t_1^4/4,$$

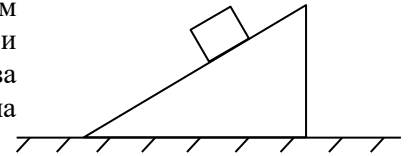
откуда выражаем

$$V_0 \sin \alpha = \frac{gt_1}{4} + \frac{V_0^2}{gt_1} - \frac{R^2}{gt_1^3}.$$

Подставляя найденное выражение в формулу для времени полета $T = 2V_0 \sin \alpha / g$, окончательно получаем

$$T = \frac{t_1}{2} + \frac{2V_0^2}{g^2 t_1} - \frac{2R^2}{g^2 t_1^3}.$$

2. (40 баллов) На гладкую наклонную грань клина, стоящего на гладком горизонтальном столе, кладут брусок той же массы, что и клин. При соскальзывании бруска его скорость в каждый момент времени в два раза больше скорости клина. Под каким углом к поверхности стола направлена скорость бруска?



Ответ. Скорость бруска направлена под углом 60° к поверхности стола.

Решение. Обозначим через α искомый угол, через V скорость клина, а через v скорость бруска ($v = 2V$). Из сохранения проекции импульса системы «брусок-клин» на горизонтальное направление следует соотношение

$$mv \cos \alpha = mV$$

(m – масса каждого из тел), откуда находим

$$\cos \alpha = \frac{1}{2}$$

и $\alpha = 60^\circ$.

3. (30 баллов) Для изготовления модели глобуса взяли два проволочных кольца радиуса a , расположили их во взаимно перпендикулярных плоскостях как меридианы и спаяли на «полюсах». Третье кольцо расположили как экватор и спаяли в точках касания с «меридианами». Найти сопротивление между «полюсами» получившегося «глобуса», если сопротивление единицы длины проволоки равно R_1 .

Ответ. Сопротивление равно $\frac{\pi a R_1}{4}$.

Решение. Из соображений симметрии следует, что ток не течет по участкам экваториального кольца. Их можно для наглядности удалить. При этом получаем четыре полукольца длины πa , параллельно включенных между полюсами. Их общее сопротивление равно

$$\frac{1}{4} \pi a R_1.$$

9 класс

1. (40 баллов) Частица движется прямолинейно с постоянным ускорением. Пройденный частицей путь и ее перемещение за промежуток времени $0 \leq t \leq t_1$ отличаются в три раза, скорость в момент t_1 больше по величине скорости при $t = 0$. В какой момент скорость частицы обращалась в нуль?

Ответ. В момент $t_1/(1 + \sqrt{2})$.

Решение. Ясно, что вектор ускорения частицы направлен против вектора начальной скорости и на интервале времени $0 \leq t \leq t_1$ частица движется сначала в одну сторону, затем, после остановки, в обратную. Большая величина скорости в момент t_1 по сравнению с начальной (в момент $t = 0$) означает, что частица успевает пройти через начальную точку в обратном направлении к моменту t_1 . Обозначим через L перемещение частицы к моменту t_1 , т.е. ее удаление от начальной точки в этот момент. Тогда, очевидно, пройденный путь $3L$ можно разделить следующим образом: L – это путь от начальной точки до точки остановки и $2L$ – путь в обратном направлении. Обозначив время движения от начальной точки до точки остановки через t_0 и ускорение частицы через a , запишем соотношения

$$\frac{at_0^2}{2} = L, \quad \frac{a(t_1 - t_0)^2}{2} = 2L,$$

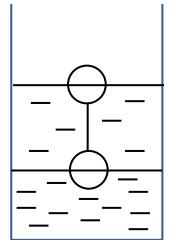
откуда находим, что $t_0 = t_1/(1 + \sqrt{2})$.

2. (30 баллов) Для изготовления модели глобуса взяли два проволочных кольца радиуса a , расположили их во взаимно перпендикулярных плоскостях как меридианы и спаяли на «полюсах». Третье кольцо расположили как экватор и спаяли в точках касания с «меридианами». Найти сопротивление между «полюсами» получившегося «глобуса», если сопротивление единицы длины проволоки равно R_1 .

Решение. Из соображений симметрии следует, что ток не течет по участкам экваториального кольца. Их можно для наглядности удалить. При этом получаем четыре полукольца длины πa , параллельно включенных между полюсами. Их общее сопротивление равно

$$\frac{1}{4} \pi a R_1.$$

3. (30 баллов) В цилиндрический сосуд налиты две жидкости разной плотности. Два связанных нитью шара одинакового радиуса R плавают в них так, что половина каждого шара находится в менее плотной жидкости (см. рис.). После того, как в сосуд долили менее плотной жидкости, оба шара стали плавать в ней целиком, касаясь границ раздела с более плотной жидкостью и воздухом. Чему равно отношение плотностей жидкостей? Какой объем жидкости долили в сосуд, если радиус его дна равен $2R$?



Ответ. Отношение плотностей жидкостей равно 2. Объем долитой жидкости равен $20\pi R^3/3$.

Решение. Запишем условия плавания связанных нитью шаров вначале

$$(m_1 + m_2)g = \rho_1 V g + \rho_2 \frac{V}{2} g$$

и после доливания жидкости

$$(m_1 + m_2)g = 2\rho_1 V g.$$

Здесь через m_1 , m_2 и V обозначены массы и объемы ($V = 4\pi R^3/3$) шаров, а через ρ_1 и ρ_2 – плотности жидкостей, $\rho_2 > \rho_1$. Из записанных уравнений находим, что $\rho_2 = 2\rho_1$. После доливания жидкости с плотностью ρ_1 толщина слоя этой жидкости увеличилась на $2R$, при этом объем, занимаемый шарами в этой жидкости, увеличился на V . Следовательно, объем долитой жидкости равен $2RS - V$, где $S = 4\pi R^2$ – площадь сечения сосуда, т.е. $20\pi R^3/3$.

8 класс

1. (30 баллов) Два велосипедиста ездят по круговому треку длиной 300 м в противоположных направлениях. Скорость одного велосипедиста 52,5 км/час, другого 55,5 км/час. Через какое время происходят встречи велосипедистов?

Ответ. Через 10 с.

Решение. За время t между двумя последовательными встречами велосипедисты вместе проходят расстояние $L = 300$ м, т.е. можно составить такое уравнение

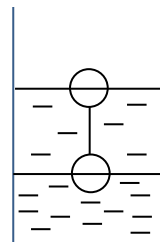
$$L = V_1 t + V_2 t,$$

где через V_1 и V_2 обозначены скорости велосипедистов. Тогда искомое время t можно выразить как

$$t = \frac{L}{V_1 + V_2}.$$

Учитывая, что $V_1 + V_2 = 108 \text{ км/час} = 30 \text{ м/с}$, находим $t = 10 \text{ с}$.

2. (40 баллов) В цилиндрический сосуд налиты две жидкости разной плотности. Два связанных нитью шара одинакового радиуса R плавают в них так, что половина каждого шара находится в менее плотной жидкости (см. рис.). После того, как в сосуд долили менее плотной жидкости, оба шара стали плавать в ней целиком, касаясь границ раздела с более плотной жидкостью и воздухом. Чему равно отношение плотностей жидкостей? Какой объем жидкости долили в сосуд, если радиус его дна равен $2R$?



Ответ. Отношение плотностей жидкостей равно 2. Объем долитой жидкости равен $20\pi R^3/3$.

Решение. Запишем условия плавания связанных нитью шаров вначале

$$(m_1 + m_2)g = \rho_1 Vg + \rho_2 \frac{V}{2}g$$

и после доливания жидкости

$$(m_1 + m_2)g = 2\rho_1 Vg.$$

Здесь через m_1 , m_2 и V обозначены массы и объемы ($V = 4\pi R^3/3$) шаров, а через ρ_1 и ρ_2 – плотности жидкостей, $\rho_2 > \rho_1$. Из записанных уравнений находим, что $\rho_2 = 2\rho_1$. После доливания жидкости с плотностью ρ_1 толщина слоя этой жидкости увеличилась на $2R$, при этом объем, занимаемый шарами в этой жидкости, увеличился на V . Следовательно, объем долитой жидкости равен $2RS - V$, где $S = 4\pi R^2$ – площадь сечения сосуда, т.е. $20\pi R^3/3$.

3. (30 баллов) В спиртовом термометре окрашенный спирт полностью занимает стеклянную колбочку и частично тонкую стеклянную трубку, выходящую из колбочки. Объем колбочки равен $0,3 \text{ см}^3$. При нагревании спирт расширяется, его объем увеличивается по закону $V = V_0(1 + \beta\Delta t)$, где Δt – изменение температуры в градусах, $\beta = 0,0011 \text{ 1/град}$ – коэффициент объемного расширения спирта, а V_0 – начальный (до нагревания) объем спирта. В термометре при нагревании на 1 градус длина столбика увеличивается на $3/4 \text{ мм}$. Найти площадь сечения трубки. Объем спирта в трубке много меньше объема колбочки.

Ответ. Площадь сечения трубки равна $0,44 \text{ мм}^2$.

Решение. Увеличение длины спиртового столбика в трубке происходит в основном из-за расширения спирта в колбочке. Увеличение объема спирта $\Delta V = V - V_0$ можно приближенно записать как

$$\Delta V = V_0\beta\Delta t.$$

С другой стороны, ΔV можно записать через увеличение длины столбика ΔL и площадь сечения трубки S как

$$\Delta V = S\Delta L.$$

Сравнивая две формулы, получаем выражение для площади сечения трубки

$$S = V_0\beta\Delta t/\Delta L.$$

Подставляя в полученное выражение $\Delta t = 1 \text{ град}$, $\beta = 0,0011 \text{ 1/град}$, $V_0 = 300 \text{ мм}^3$ и $\Delta L = 3/4 \text{ мм}$, получаем

$$S = 0,44 \text{ мм}^2.$$

7 класс

1. (30 баллов) Два велосипедиста ездят по круговому треку длиной 300 м в противоположных направлениях. Скорость одного велосипедиста $52,5 \text{ км/час}$, другого $55,5 \text{ км/час}$. Через какое время происходят встречи велосипедистов?

Ответ. Через 10 с .

Решение. За время t между двумя последовательными встречами велосипедисты вместе проходят расстояние $L = 300 \text{ м}$, т.е. можно составить такое уравнение

$$L = V_1 t + V_2 t,$$

где через V_1 и V_2 обозначены скорости велосипедистов. Тогда искомое время t можно выразить как

$$t = \frac{L}{V_1 + V_2}$$

Учитывая, что $V_1 + V_2 = 108 \text{ км/час} = 30 \text{ м/с}$, находим $t = 10 \text{ с}$.

2. (40 баллов) На столе стоят два цилиндрических сосуда, соединенные на высоте H тонкой трубкой. Площади дна сосудов S и $S/4$. Сосуд с большей площадью дна заполнен водой до уровня $3H/4$. На дно этого сосуда ставят сплошной цилиндр с площадью основания $S/2$ и высотой $3H/5$. Какими станут уровни воды в сосудах?

Ответ. В сосуде с большей площадью дна уровень станет равным H , в другом сосуде $H/5$.

Решение. Из объема, первоначально занятого водой, цилиндр вытеснит воду объемом $3HS/10$. Часть вытесненной воды объемом $(H - 3H/4)S = HS/4$ заполнит сосуд с большей площадью дна до уровня H , а остальная вытесненная вода, объемом $3HS/10 - HS/4 = HS/20$, перетечет в другой сосуд. Поделив объем перетекшей воды $HS/20$ на площадь дна этого сосуда $S/4$, находим, что уровень воды в нем станет равным $H/5$.

3. (30 баллов) Два куба, ребра которых отличаются в 2 раза, составлены из половин разной плотности. Плотности одних половин одинаковы у разных кубов, плотности других отличаются в 1,5 раза – большая у куба с большим ребром. Чему равно отношение плотностей половин меньшего куба, если отношение масс кубов равно 9?

Ответ. Плотности относятся как 3 : 1.

Решение. Обозначим плотности половин меньшего куба через ρ_1 и ρ_2 , большего – через ρ_1 и $1,5\rho_2$, ребро меньшего куба через a . Тогда массу большего куба можно записать как

$$M = 2(2\rho_1 + 3\rho_2)a^3,$$

а меньшего как

$$m = (\rho_1 + \rho_2)a^3/2.$$

Накладывая условие $M = 9m$, приходим к соотношению $\rho_1 = 3\rho_2$.